

Zdravím příznivce zeměpisu z 8.A a 8.B.

Chválím vás všechny, kteří poctivě pracujete, zejména mě mile překvapili žáci z 8.A

Zároveň musím podotknout, že mi někteří žáci ještě neposlali požadovanou prezentaci z krajů, a část žáků se mnou nekomunikuje. Prosím dejte to do pořádku, můžete tím ovlivnit výslednou známku. Děkuji V. Sklenářová

Práce na 25.5.-5.6.

Zápis nového učiva + přečti v učebnici str. 81- 83

Zlínský kraj

Rozloha: 3 963 km²

Počet obyvatel : 582 500 **Hustota osídlení:** 147 obyvatel na km²

Krajské město: Zlín

Okresy: 4 (Zlín, Vsetín, Uherské Hradiště, Kroměříž)

Významné řeky: Morava a její přítok Bečva (Vsetínská a Rožnovská)

Lázně: Luhačovice

Pohoří: Bílé Karpaty (Velká Javořina – 970 m), Javorníky (Javorník - 1019 m)
MS Beskydy, Chřiby

Nejvyšší hora: Čertův Mlýn (1206m – MS Beskydy)

Průmysl: chemický – Otrokovice (Barum) , Napajedla (Fatra), Zubří (gumárny)
strojírenský – Kunovice (letecké závody)
zbrojní - Uh. Hradiště, Vsetín (výroba zbraní)
spotřební – Zlín (obuv), Bystřice pod Hostýnem (ohýbaný nábytek-Thonet)
potravinářský – Vizovice (lihovar - Jelínek)

Zemědělství: úrodné nížinné úvaly, pastevectví ovcí v horských oblastech

Kulturní památky:

hrady – Buchlov, Malenovice, Brumov
zámky – Buchlovice, Kroměříž, Chropyně

Horská střediska: Horní Bečva (MS Beskydy)

Další turisticky zajímavá místa: Velehrad, Hostýn (poutní místa), Baťův kanál,
Květné zahrady v Kroměříži (UNESCO), skanzen v Rožnově pod Radhoštěm

Pracovní listy: vypracované odpovědi odešli do 5.6. na vera.sklenarova@zschocho.cz

ZLÍNSKÝ KRAJ

1. Doplň místo:

Hanácké Atény

Poutní místo spojené s příchodem Cyrila a Metoděje

Valašský skanzen

Rodiště J. A. Komenského

Lázně projektované D. Jurkovičem

Město vybudované T. Baťou

2. Na seznamu UNESCO jsou zařazeny:

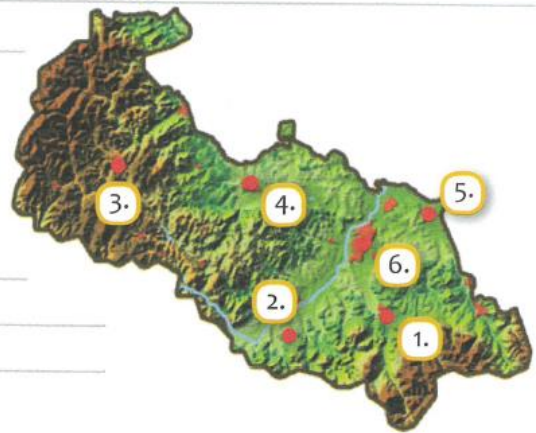
stavba

komplex zahrad.....

biosférická rezervace.....

3. Sestav dvojice:

Otrokovice	pohanský bůh Radegast
Uherský Brod	výroba sportovních letadel
Radhošť	výroba pneumatik
Kunovice	zbrojovka



1. Napiš názvy měst podle polohy na mapě:


- | | |
|----------|----------|
| 1. _____ | 4. _____ |
| 2. _____ | 5. _____ |
| 3. _____ | 6. _____ |

2. V přesmyčkách se skrývají názvy řek Moravskoslezského kraje. Vyluští je.

- | | |
|------------------|-------------------------|
| 2. RAOD - _____ | 6. RA CE VI MO - _____ |
| 3. AVOPA - _____ | 7. RA VI OST CE - _____ |
| | 8. ŠEOL - _____ |


3. Ostravsko-karvinská pánev patří k nejdůležitějším průmyslovým oblastem. Spoj správně průmyslové odvětví/podnik a město.

- | | |
|---------------|-----------------------------|
| A. Ostrava | Opavia – výroba oplatek |
| B. Kopřivnice | Železářny |
| C. Studénka | Tatra – nákladní automobily |
| D. Opava | Arcelor Mittal a. s. |
| E. Třinec | výroba vagonů |



Vysoké pece - Vítkovice

4. Víš, kde se nachází třetí největší letiště v Česku, které ročně odbaví 300 tisíc cestujících? Vyluští křížovku:



1. Hrad s gotickou věží Trúba o výšce 40 m.
2. Stát ležící na severní hranici kraje.
3. Nejméně frekventovaný hraniční přechod do Polska.
4. Město známé především světovou výrobou varhan.
5. Nejvyšší vrchol Moravskoslezských Beskyd (1323 m.n.m.)
6. Lázně s léčbou poruch pohybového ústrojí

5. Představ si, že cestuješ z Prahy do Ostravy. Jakými druhy dopravy se tam dostaneš?
