

Cíle na tento týden:

- krychle a kvádr - opakování

Úkol: Pošlete mi do 21.5. níže zadaný úkol na e-mail pavla.jankova@zschocho.cz

Opakování – krychle, kvádr

1. Vyřešte, co nejvíce úloh ze SBÍRKY ÚLOH (vždy se nejprve rozhodněte, jestli se úloha týká povrchu nebo objemu)

str. 137/ 9

str. 142/ 15

str. 143/ 17

str. 135 / 3,4

str. 136 / 7

2. vyřešte pracovní list (může vám pomoci vystříhnout si alespoň některé sítě z jiného papíru – doporučuji čtverečkovaný)

Úkol

Vypočítejte a pošlete mi do 21.5. řešení i s postupem:

Představte si: **Ve vašem pokoji se bude malovat, budou se natírat jen stěny a strop (bez oken a dveří). Potřebujete malíři říci, jak velkou plochu bude malovat.**


1. změřte rozměry svého pokoje (nebo jiného pokoje, který má tvar kvádrů)

2. vypočítejte povrch stěn a stropu

3. odečtěte plochu dveří a oken (je potřeba si rozměry opět změřit a spočítat obsah)

Vytrvejte ve vaší práci. Chválím každého, kdo se doma poctivě učí. Nevzdávejte to a pojďte studovat dál!

Pavla Janková

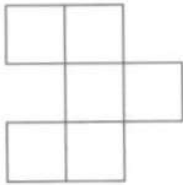


Test prostorové představivosti

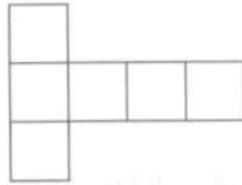
Na stránce je 20 sítí krychle, jen několik jich je zakresleno **správně**. Rozhodněte, která síť je zakreslena **správně** a která **špatně**. Za **správnou** odpověď získáte vždy 1 bod.

výborně	chvalitebně	dobře	dostatečně	nedostatečně
20 až 18	17 až 14	13 až 8	7 až 5	4 a méně

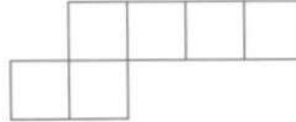
1.) ano - ne



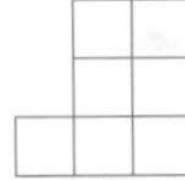
2.) ano - ne



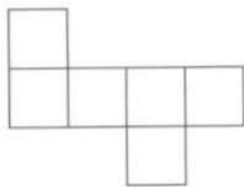
3.) ano - ne



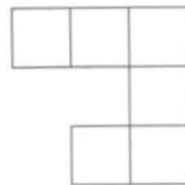
4.) ano - ne



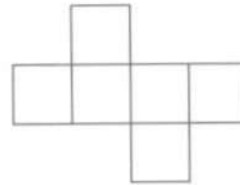
5.) ano - ne




6.) ano - ne



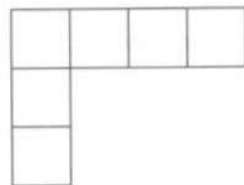
7.) ano - ne



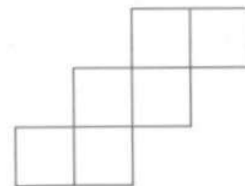
8.) ano - ne



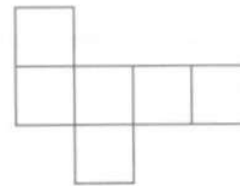
9.) ano - ne



10.) ano - ne



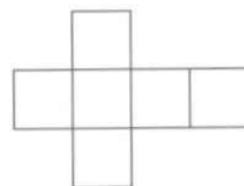
11.) ano - ne



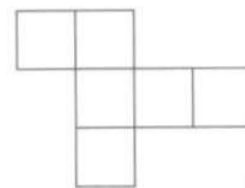
12.) ano - ne



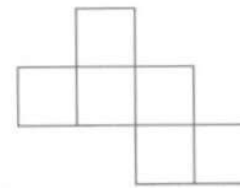
13.) ano - ne



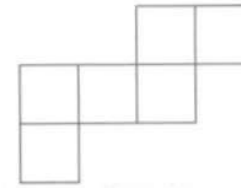
14.) ano - ne



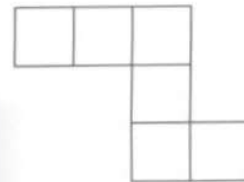
15.) ano - ne



16.) ano - ne



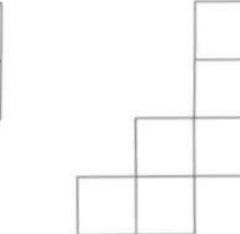
17.) ano - ne



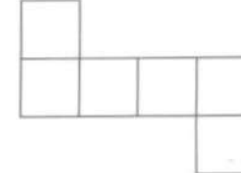
18.) ano - ne




19.) ano - ne



20.) ano - ne



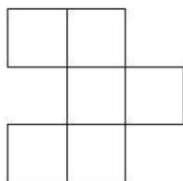


Test prostorové představivosti

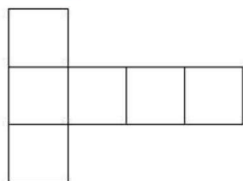
Na stránce je 20 sítí krychle, jen několik jich je zakresleno **správně**. Rozhodněte, která síť je zakreslena správně a která špatně. Za **správnou** odpověď získáte vždy 1 bod.

výborně	chvalitebně	dobře	dostatečně	nedostatečně
20 až 18	17 až 14	13 až 8	7 až 5	4 a méně

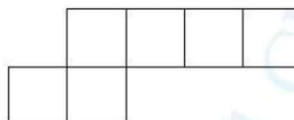
1.) ano - **ne**



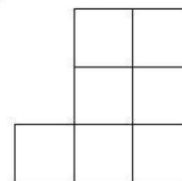
2.) **ano** - ne



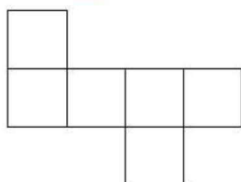
3.) ano - **ne**



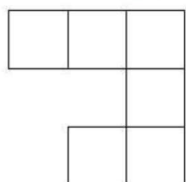
4.) ano - **ne**



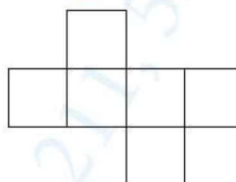
5.) **ano** - ne



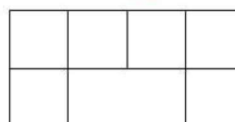
6.) ano - **ne**



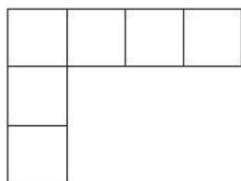
7.) **ano** - ne



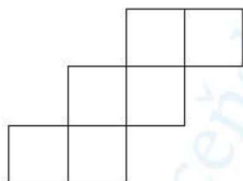
8.) ano - **ne**



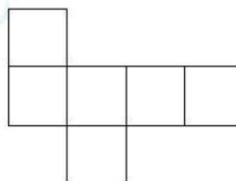
9.) ano - **ne**



10.) **ano** - ne



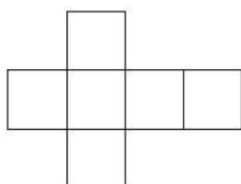
11.) **ano** - ne



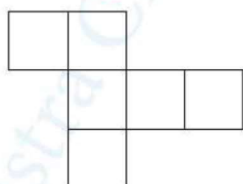
12.) **ano** - ne



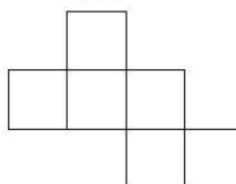
13.) **ano** - ne



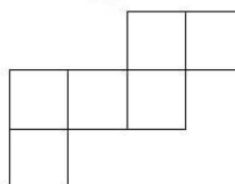
14.) **ano** - ne




15.) **ano** - ne



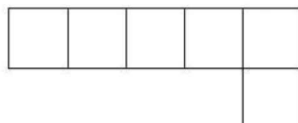
16.) **ano** - ne



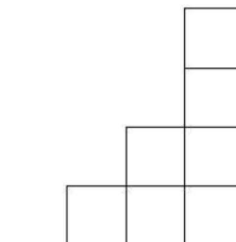
17.) ano - **ne**



18.) ano - **ne**



19.) ano - **ne**



20.) **ano** - ne

